

LZK 08.11.2022	Name:
----------------	-------

Punkte /	Zusatzpunkte /
-----------------	-----------------------

Unterschrift:

Markiere zuerst die Stellenwerte mit Farben . Einer - grün, Zehntel - rot

1. Schreibe in Worten

a)

25.50 _____

2.50 _____

0.25 _____

/6

2. Setze die Teile zu einer Zahl **zusammen**.

Notiere die Zahl.

-+

0,2

0,05

1,0

0,20

0,2

0,50

0,20

0,001

Z	E,	z	h	t	Zahl

/8

LZK 08.11.2022	Name:
----------------	-------

Ergänze die Tabelle: Immer 0,01 mehr

Schreibweise als Bruch	Schreibweise mit Stellenwerten	Schreibweise als Dezimalzahl
$\frac{5}{100}$		

/6

Ergänze die Tabelle: Immer 0,1 mehr

Schreibweise als Bruch	Schreibweise mit Stellenwerten	Schreibweise als Dezimalzahl
$\frac{15}{100}$	Zehntel, Hundertstel	

/6

Ergänze die Tabelle

Schreibweise als Bruch	Schreibweise mit Stellenwerten	Schreibweise als Dezimalzahl
		0.2
		0.125
		0.50

/6

LZK 08.11.2022	Name:
----------------	-------

Punkte /	Zusatzpunkte /
-----------------	-----------------------

Unterschrift:

Markiere zuerst die Stellenwerte mit Farben . Einer - grün, Zehntel - rot

1. Schreibe in Worten

a)

25.50 _____

2.50 _____

0.25 _____

/6

2. Setze die Teile zu einer Zahl **zusammen**.

Notiere die Zahl.

-+

0,2	0,05
-----	------

1,0	0,20
-----	------

0,2	0,50
-----	------

0,20	0,001
------	-------

Z	E,	z	h	t	Zahl

/8

Zahlwörter - Verbinde!

Drei – Punkt - zwei - eins	<input type="radio"/>		<input type="radio"/>	6.05
Null – Punkt - Acht – Drei - Sieben	<input type="radio"/>		<input type="radio"/>	9.345
Null-Punkt –sieben - zwei	<input type="radio"/>		<input type="radio"/>	3.21
Sechs-Punkt-Null-Fünf	<input type="radio"/>		<input type="radio"/>	0.72
Neun – Punkt - Drei – Vier - Fünf	<input type="radio"/>		<input type="radio"/>	0.837

/5

Ergänze die Tabellen

Schreibweise als Bruch	Schreibweise mit Stellenwerten	Schreibweise als Dezimalzahl
$\frac{7}{10}$		
$\frac{5}{10}$		
$\frac{3}{10}$		
$\frac{2}{100}$		

/8

LZK 08.11.2022	Name:
----------------	-------

Ergänze die Tabelle: Immer 0,01 mehr

Schreibweise als Bruch	Schreibweise mit Stellenwerten	Schreibweise als Dezimalzahl
$\frac{5}{100}$		

/6

Ergänze die Tabelle: Immer 0,1 mehr

Schreibweise als Bruch	Schreibweise mit Stellenwerten	Schreibweise als Dezimalzahl
$\frac{15}{100}$	Zehntel, Hundertstel	

/6

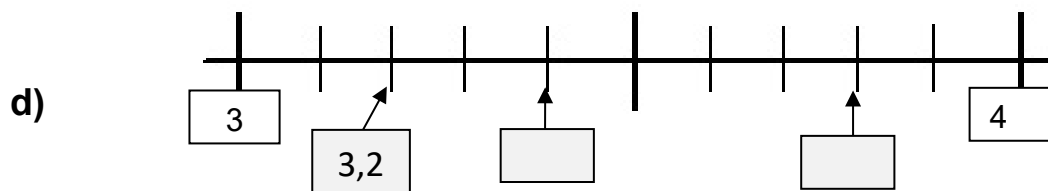
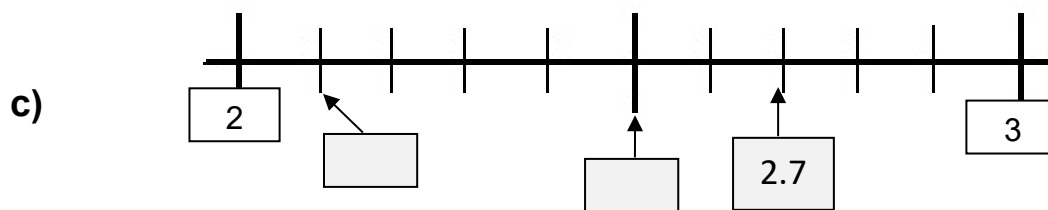
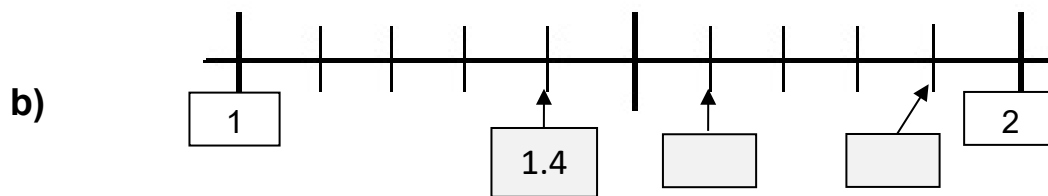
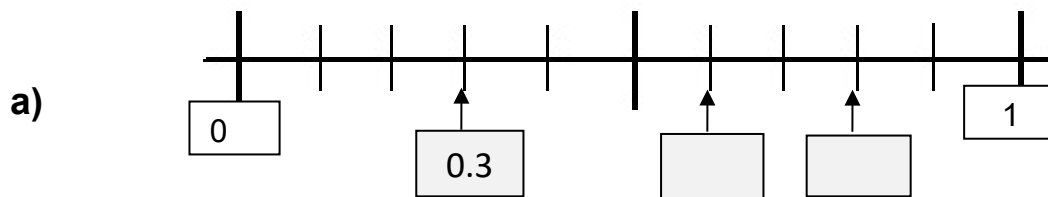
Ergänze die Tabelle

Schreibweise als Bruch	Schreibweise mit Stellenwerten	Schreibweise als Dezimalzahl
		0.2
		0.125
		0.50

/6

Zahlenstrahl – Welche Zahlen sind markiert?

Schreibe die Dezimalzahlen in die Kästchen am Rechenstrich.



Was ist mehr? Schreibe das richtige Zeichen $<$ oder $>$ oder $=$

a)

0,20	0,07
0,20	0,50
7,00	0,07
2,020	0,07
0,102	0,007

/5

b) **Rechne zusammen**

0,101	+	0,023	
0,201	+	0,007	
0,202	+	0,023	
2,020	+	0,07	
0,28	+	0,220	

/5